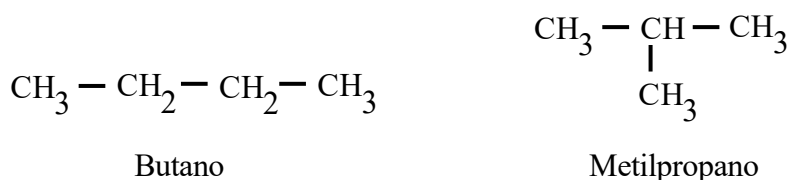


Problema933: Escribe: (a) Un hidrocarburo alifático saturado que presente isomería de cadena. (b) Un alcohol que presente isomería de posición, (c) Un ejemplo de isomería de función, (d) Un aldehído que presente isomería óptica, (e) Un ejemplo de isomería geométrica. Formula y nombra en todos los casos cada uno de los isómeros.


(a) Un hidrocarburo alifático saturado que presente isomería de cadena.



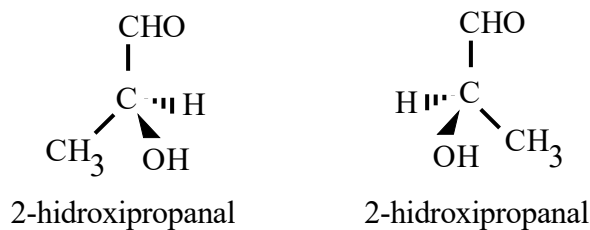
(b) Un alcohol que presente isomería de posición



(c) Un ejemplo de isomería de función



(d) Un aldehído que presente isomería óptica



(e) Un ejemplo de isomería geométrica

